

“DU SOL AU PLAFOND”

Nous allons travailler en interdisciplinarité, les **pigments** en SVT, et les **plafonds peints** en Histoire-géographie. Vous serez invités à proposer **une production originale** inspirée par le “land art” avec l’aide d’une plasticienne, Claire Giordano et vous devrez construire **un petit dossier personnel** que nous mettrons sur l’E.N.T. avec l’aide des étudiants de Sciences- Po Paris.

2

CAPESTANG




34 GENS D'HÉRAULT





PORTFOLIO 35

PLAFOND RENVERSANT

Le château de Capestang recèle un extraordinaire plafond peint du XV^e siècle.



- 1 COMMANDÉ PAR L'ARCHEVÊQUE Jean d'Harcourt pour orner la salle d'apparat, ce plafond s'étend sur plus d'une centaine de panneaux.
- 240 MÈTRES DE SCÈNES galantes et religieuses, un décor de quelques décennies gothiques ou naïves.
- 3 ŒUVRE DU MAÎTRE DE CAPESTANG, les motifs sont ornés d'un trait noir pour être lus de loin. Ils témoignent d'une maîtrise technique souvent oubliée.
- 4 COURTESANS, Chevaliers ou bestiaire fantastique plongent le visiteur dans un univers surprenant.



8 OUVERT AU PUBLIC, le château est un lieu de vie : on découvre cette fille médiévale en costumes d'époque.

Office de tourisme
05 43 93 34 43, www.office-capestang.fr

LE MAGAZINE DU DÉPARTEMENT N°101 - DÉCEMBRE 2009

FICHE N°1 : préparation de la journée d'étude à CAPESTANG

Intervenante : Marjory Clément du **service culture- patrimoine** de la communauté de communes Canal- Lirou.

Découvrir et étudier les plafonds peints nous permettent de nous plonger dans l'histoire médiévale et de nous interroger sur **la place et le rôle de l'Eglise au Moyen- Age.**

Vous devez créer sur votre ordinateur un DOSSIER ''MOYEN-AGE'' et créer un fichier n°1 ''VISITE DU CHATEAU DES ARCHEVEQUES A CAPESTANG''. Vous apporterez en cours, votre ordinateur et ce premier dossier sur clé USB.

EXERCICE :

1) La notion de ''Moyen- Age'' :

A. D'où vient l' expression **Moyen- Age** ?

L'expression « Moyen Âge » vient de l'expression latine *medium aevum* qui signifie « âge intermédiaire » ou « âge moyen » d'un homme. Ainsi, « moyen âge » représente un âge intermédiaire entre différentes époques, différents courants artistiques.

B. Quels **événements** permettent de dater son début et sa fin ?

Répondez par une petite chronologie personnalisée ;

Vous ajouterez une courte bibliographie indiquant les sources que vous avez utilisées.

Le moyen âge débute en 476, après la chute de l'empire romain et se termine en 1492 par le début des grandes découvertes.

- 395 : Partage de l'empire romain en 2 (Orient-Occident) Théodore
- 406 : Les barbares franchissent le Rhin
- **476 : Chute de l'Empire Romain d'Occident**
- 481 : Sacre de Clovis, premier roi des Francs
- 570 : Naissance de Mahomet à la Mecque
- 622 : Émigration de Mahomet de La Mecque à Médine : début de l'Hégire, qui marque le point de départ du calendrier musulman, le point zéro de l'Islam
- 800 : 25 décembre : Charlemagne est couronné empereur
- 987 : Hughes Capet est élu roi de France
- 1099 : Première croisade et prise de Jérusalem
- 1180-1223 : Règne de Philippe Auguste
- 1214 : 27 juillet, batailles de Bouvines
- 1270 : 25 août, mort de Saint Louis
- 1337-1453 : Guerre de 100 ans entre les Anglais et les Français
- 1453 : Prise de Constantinople par les Turcs et fin de l'Empire romain d'Orient.
- 1460 : Découverte et utilisation de la boussole, de l'imprimerie, de la poudre à canon...
- **1492 : Découverte de l'Amérique : Christophe Colomb**

Bibliographie : <http://soutien67.free.fr/histoire/chronologie/chronologie.htm#moyenage>

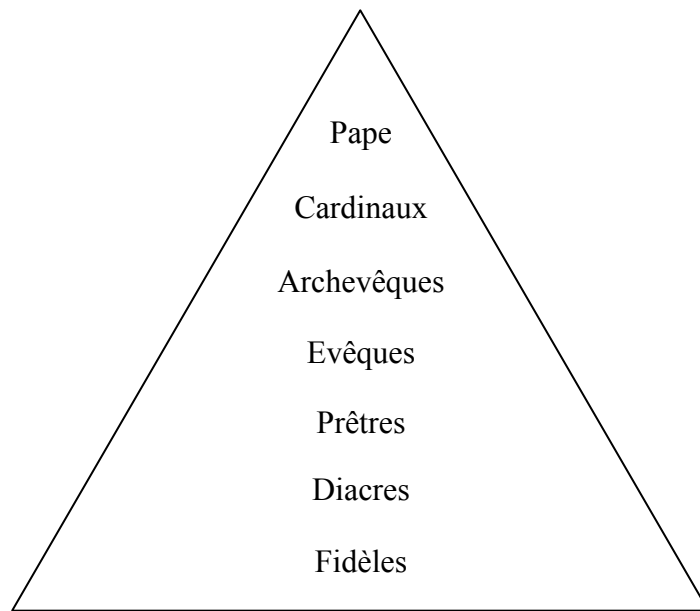
2) Le poids des mots :

A. Savez-vous définir : **clergé séculier, clergé régulier** ?

Clergé séculier : Le clergé séculier comprend les clercs et les prêtres au service de l'Église dans le cadre de l'Église diocésaine (évêques, prêtres, diacres).

Clergé régulier : Le clergé régulier comprend ceux qui ont prononcé des vœux et vivent en communauté selon une règle (moines et religieux).

B. Cette pyramide de **la hiérarchie dans l'Église** est dans le désordre, reconstruisez-la :



Ajoutez la définition des mots que vous ne connaissez pas :

Le pape : Le chef spirituel des catholiques romains et chef temporel de l'État du Vatican. Il est infallible lorsqu'il définit tout ce qui concerne la foi et la morale.

Les cardinaux : Ils sont nommés par le pape et ils créent le Collège des cardinaux. Le collège donnent des conseils au pape et, quand il meurt, ils élisent un nouveau pape.

Les archevêques : Les archevêques sont des évêques d'un diocèse principal ou métropolitain, aussi appelé un archidiocèse. Un cardinal peut être en archevêque.

Les évêques : Comme les prêtres, les évêques sont ordonnés à ce poste. Ils sont les enseignants de la doctrine de l'Église et les prêtres du culte sacré.

Les prêtres : Les prêtres sont des ministres ordonnés qui peuvent célébrer la plupart des sacrements. Ces sacrements incluent le baptême, l'eucharistie et le mariage. Ils peuvent faire partie d'une communauté

religieuse
congrégation.

particulière ou ils peuvent servir une

Les diacres : Un diacre transitionnel est un séminariste qui étudie dans le but de devenir prêtre. Un diacre permanent peut être marié et il aide le prêtre en performant quelques sacrements.

Les laïques : Les laïques sont les membres de l'Église qui créent la congrégation d'une paroisse. Ce sont ces membres et ces croyants qui sont les ouvriers de l'Église. Ils sont les plus nombreux donc ils ont beaucoup de pouvoir quant à l'Église dans la communauté et l'action locale de l'Église.

3) Un peu d'étymologie :

Etymologie :

BEZIERS : Béziers vient du Latin Baeterrae ou Biterrae

NARBONNE : Narbonne vient du Latin Narbo, Narbonis, devenu Narbona en bas-latin.

CAPESTANG : Capestang vient de l'occitan Capestanh, peut-être du latin caput et stagni (tête de l'étang).

- 4) Vous êtes paysan du Moyen- Age et vous devez vous rendre à pied de Béziers à Capestang : **combien de temps de marche ?**

Il y a environ 15 km entre Capestang et Béziers, il faudrait donc environ 3 heures de marches pour réaliser ce trajet

- 5) A partir de vos **représentations du Moyen- Age** cherchez **3 images qui caractérisent cette période**. Justifiez vos Choix.



Sacre de Charlemagne à Rome



Guerre de 100 ans